

Maths (corrigé 27-5-2020)

Plus lourd / Plus léger

64

	avril	mai	juin				
	lundi	mardi	mercredi	jeudi	vendredi	samedi	dimanche

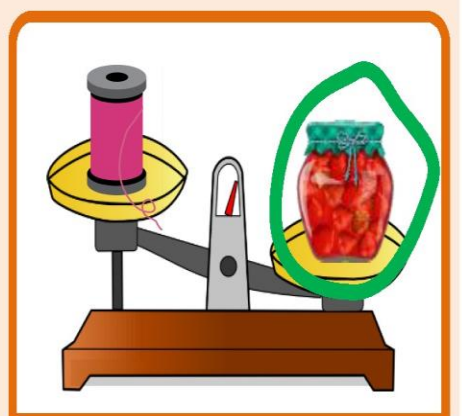

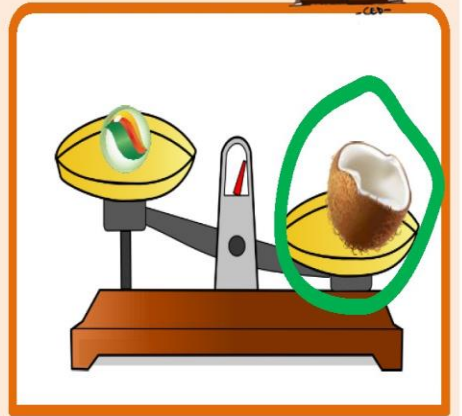
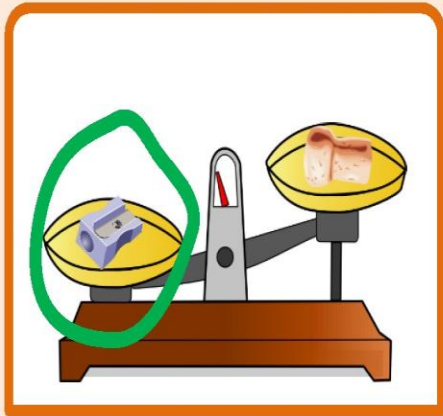
1
2
3
4
5
6
7
8
9
10
11
12
13
14
15
16
17
18
19
20
21
22
23
24
25
26
27
28
29
30
31

Entoure le plus lourd de ces deux objets puis observe la balance.

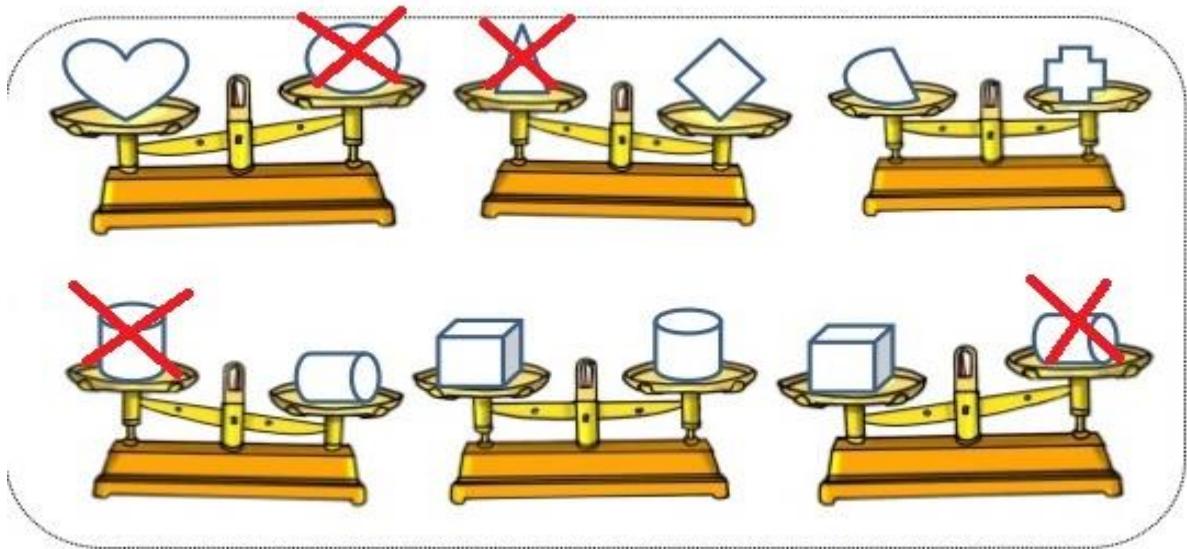
Entoure chaque fois l'objet le plus lourd.

• Comparer des masses par une méthode directe.

Entoure l'objet le plus lourd.



Observe attentivement les balances puis barre à chaque fois l'objet le plus léger quand c'est possible.



Colorie le livre le plus léger en **bleu** et le livre le plus lourd en **vert**.

