


Cycle préscolaire : GS

Année scolaire 2019-2020

## Maths : Révision

Attention à la tenue du crayon 

**Lundi 1 Juin 2020**

**1- Application** (sur le cahier de maths page 65 si vous l'avez récupéré de l'école. Sinon vous pouvez télécharger la fiche).

65

Comparer des nombres jusqu'à 10

avril

mai

juin

lundi

mardi


mercredi

jeudi


vendredi


samedi


dimanche




Pour chaque enfant, écris le nombre de fraises, puis relie ce nombre à la bande numérique. Entoure l'enfant qui a ramassé le plus de fraises.









1	2	3	4	5	6	7	8	9	10	11	12
---	---	---	---	---	---	---	---	---	----	----	----

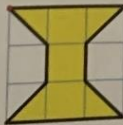
4	8
---	---

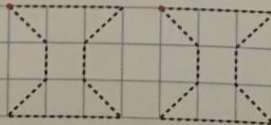
Colorie chaque fois la case du plus grand nombre.

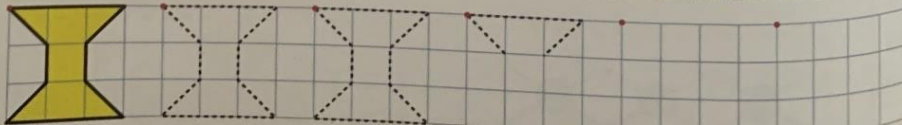
9	6
---	---

6	8
---	---

7	6
---	---








• Dénombrer une collection et comparer deux nombres inférieurs ou égaux à 10.

2-Application (sur le cahier de maths page 66 si vous l'avez récupéré de l'école. Sinon vous pouvez télécharger la fiche).


# Compléments à 10

avril
mai
juin

lundi
mardi
mercredi
jeudi
vendredi
samedi
dimanche

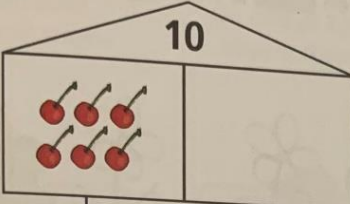


1  
2  
3  
  
5  
6  
7  
8  
  
10  
11  
12  
13  
14  
15  
16  
17  
18  
19  
20  
21  
22  
23  
24  
25  
26  
27  
28  
29  
30  
31

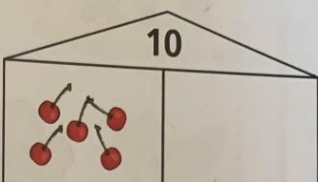


Dessine les cerises qui manquent et écris les nombres.

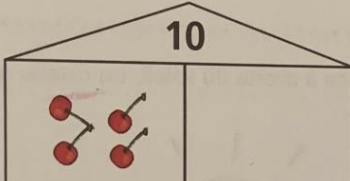
10



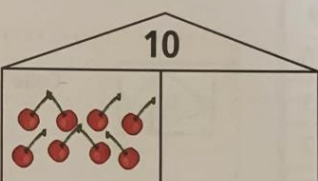
10




10

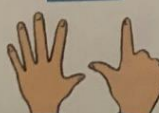



10







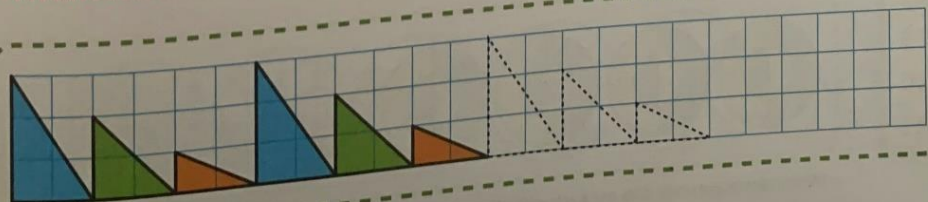
Écris le nombre de doigts que tu vois dans les cases bleues.  
Écris le nombre de doigts repliés dans les cases rouges.











• Connaître les compléments à dix.

3- Application (sur le cahier de maths page 68 si vous l'avez récupéré de l'école. Sinon vous pouvez télécharger la fiche).

## Jeu du chapeau (4)

68

	avril	mai	juin				
	lundi	mardi	mercredi	jeudi	vendredi	samedi	dimanche


1  
2  
3  
4  
  
6  
7  
8  
9  
  
11  
12  
13  
14  
15  
16  
17  
18  
19  
20  
21  
22  
23  
24  
25  
26  
27  
28  
29  
30  
31

**1**


Au début, on cache 5 jetons sous le chapeau.

On enlève 2 jetons sous le chapeau.


Dessine les jetons qui restent sous le chapeau.

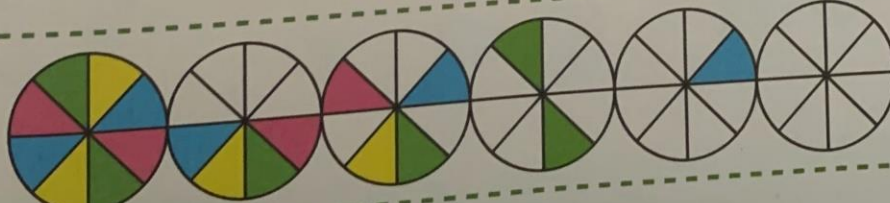


**2**



**3**





• Résoudre une situation soustractive : retrancher 2, retrancher 3.

**Jeudi 4 Juin 2020**







**4- Travaillez la fiche ci-dessous sur le cahier jaune si vous l'avez récupéré de l'école.  
Sinon vous pouvez télécharger la fiche.**



Vendredi 5 Juin 2020

5- Travaillez la fiche ci-dessous sur le cahier jaune si vous l'avez récupéré de l'école. Sinon vous pouvez télécharger la fiche.

Colorie la quantité demandée.

1		<input type="checkbox"/>
4		<input type="checkbox"/>
3		<input type="checkbox"/>
5		<input type="checkbox"/>
2		<input type="checkbox"/>
6		<input type="checkbox"/>