

Mathématiques

Nom: N° EB2

1- Complète avec <, > ou =.

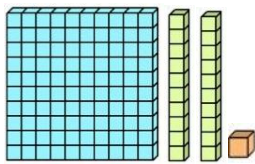
300 + 400 sept-cents

900 mille

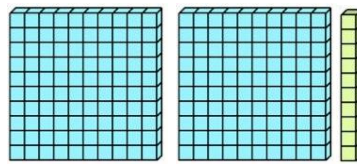
800 6 centaines

200 400

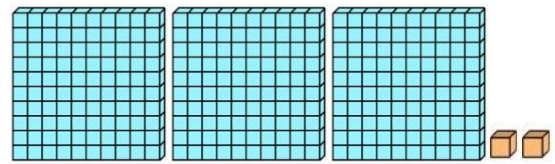
2- Ecris le nombre qui correspond à chaque dessin.



.....



.....



.....

3- Calcule.

$100 + 20 + 9 = \dots\dots\dots$

$400 + 80 + 6 = \dots\dots\dots$

$200 + 40 = \dots\dots\dots$

$600 + 5 = \dots\dots\dots$

4- Décompose.

$732 = \dots\dots\dots$



$170 = \dots\dots\dots$

$801 = \dots\dots\dots$



$913 = \dots\dots\dots$

5- Entoure.



le chiffre des centaines.



le chiffre des dizaines.




le chiffre des unités.




6- Complète.

- 932, c'est..... centaines,dizaines etunités.
-, c'est 8 centaines, 0 dizaines et 2 unités.

7- Remplis le vide.

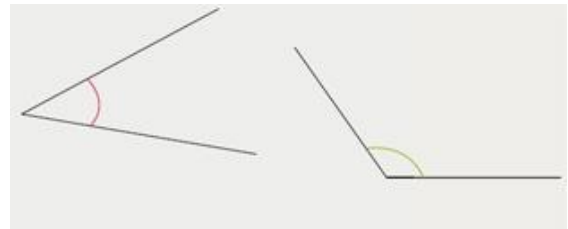


8- Observe chaque angle, écris s'ils sont plus petits ou plus grands qu'un angle droit.



Plus.....
qu'un angle droit.

Plus.....
qu'un angle droit.




Plus.....
qu'un angle droit.

Plus.....
qu'un angle droit.

9- Un marchand de journaux a vendu 300 journaux aujourd'hui, 100 journaux hier et 70 avant-hier.

Combien de journaux a-t-il vendus en tout ?

- Souligne la question en rouge et les données utiles en bleu.



- Calcul :
- Réponse :